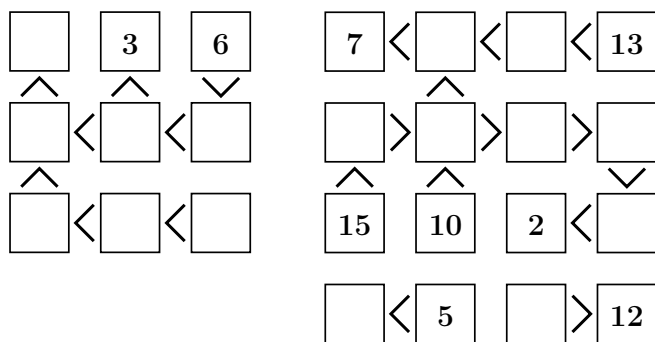
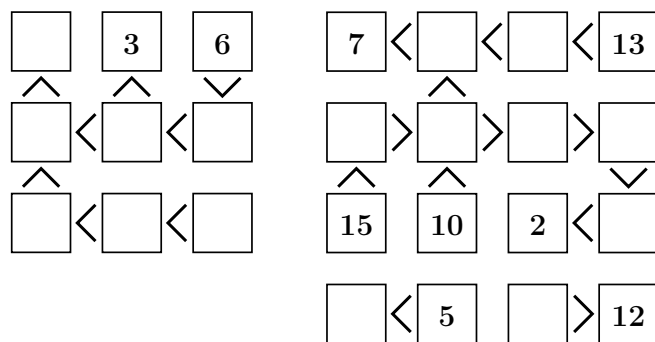


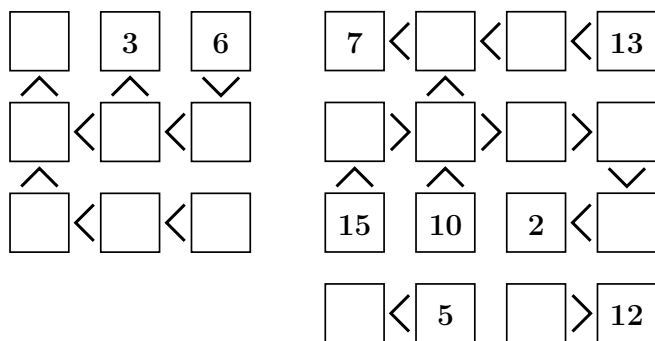
**Inégalités** (Alain Brobecker, 2010) : Remplir les cases vides pour que les nombres de 1 à 9 (1 à 16 dans la deuxième grille) soient utilisés et que les signes «plus petit que»(<) et «plus grand que»(>) soient respectés.



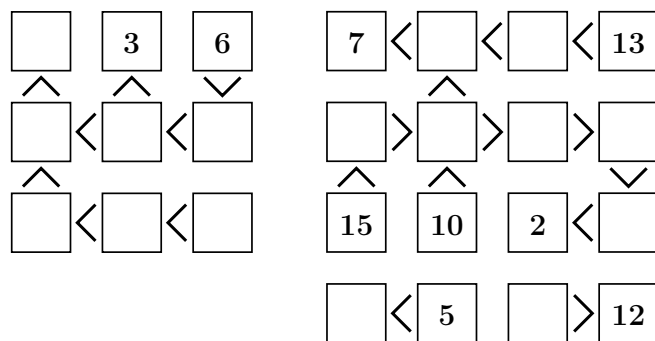
**Inégalités** (Alain Brobecker, 2010) : Remplir les cases vides pour que les nombres de 1 à 9 (1 à 16 dans la deuxième grille) soient utilisés et que les signes «plus petit que»(<) et «plus grand que»(>) soient respectés.



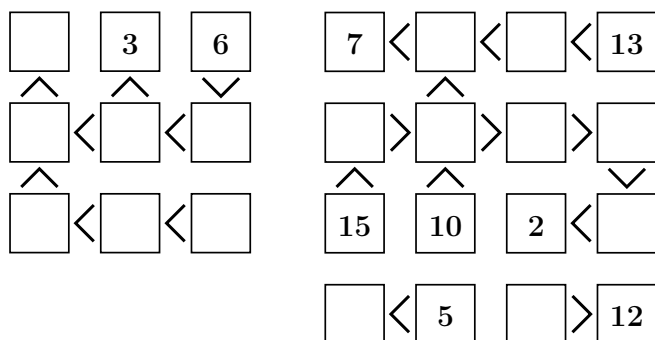
**Inégalités** (Alain Brobecker, 2010) : Remplir les cases vides pour que les nombres de 1 à 9 (1 à 16 dans la deuxième grille) soient utilisés et que les signes «plus petit que»(<) et «plus grand que»(>) soient respectés.



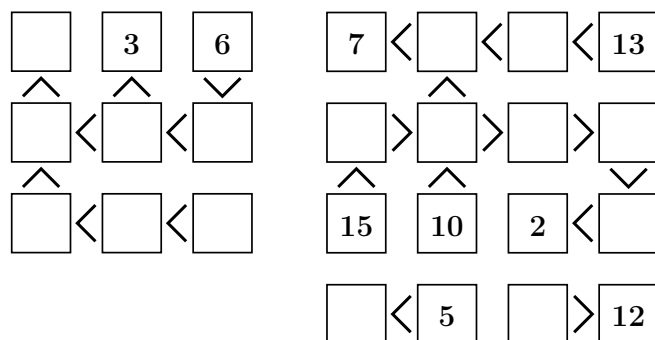
**Inégalités** (Alain Brobecker, 2010) : Remplir les cases vides pour que les nombres de 1 à 9 (1 à 16 dans la deuxième grille) soient utilisés et que les signes «plus petit que»(<) et «plus grand que»(>) soient respectés.



**Inégalités** (Alain Brobecker, 2010) : Remplir les cases vides pour que les nombres de 1 à 9 (1 à 16 dans la deuxième grille) soient utilisés et que les signes «plus petit que»(<) et «plus grand que»(>) soient respectés.



**Inégalités** (Alain Brobecker, 2010) : Remplir les cases vides pour que les nombres de 1 à 9 (1 à 16 dans la deuxième grille) soient utilisés et que les signes «plus petit que»(<) et «plus grand que»(>) soient respectés.



# Inégalités - Solutions

Tous droits réservés 2010, Alain Brobecker,  
abrobecker@yahoo.com

