




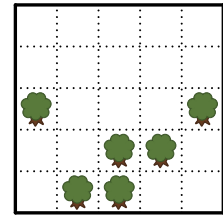
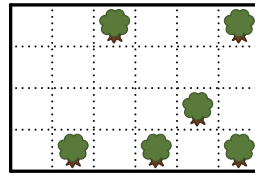
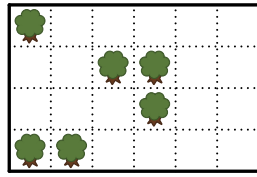
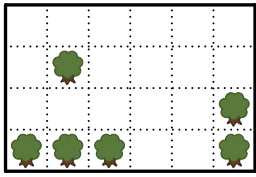
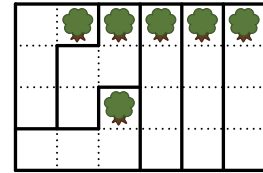





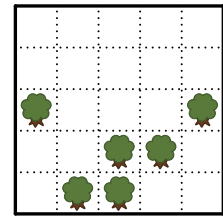
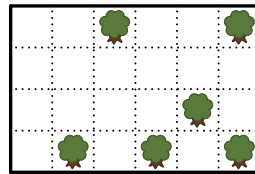
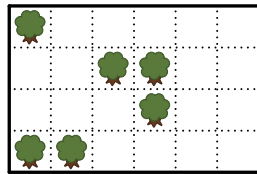
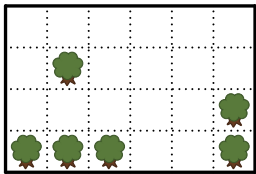
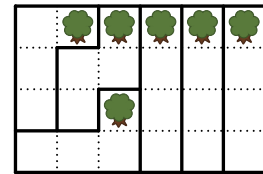


Parcelles (Alain Brobecker, 2012) Monsieur Marcel veut partager son champ de manière équitable entre ses 6 enfants. Pour ne pas faire de jaloux chacun aura une parcelle de 4 cases accolées (, , ,  ou ) et contenant un seul arbre. Aidez Monsieur Marcel à faire ce découpage comme dans l'exemple ci-contre. Dans le dernier champ il restera une case non attribuée. Chaque champ possède une solution unique.








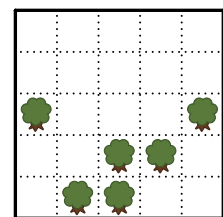
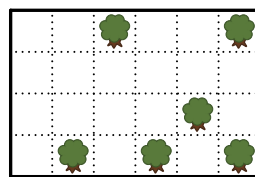
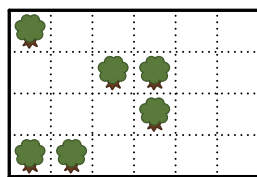
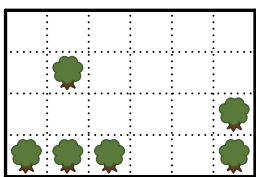
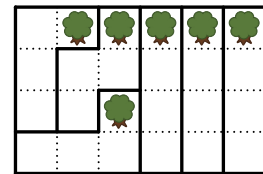
Une case non attribuée.

Parcelles (Alain Brobecker, 2012) Monsieur Marcel veut partager son champ de manière équitable entre ses 6 enfants. Pour ne pas faire de jaloux chacun aura une parcelle de 4 cases accolées (, , ,  ou ) et contenant un seul arbre. Aidez Monsieur Marcel à faire ce découpage comme dans l'exemple ci-contre. Dans le dernier champ il restera une case non attribuée. Chaque champ possède une solution unique.








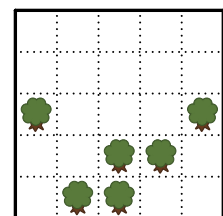
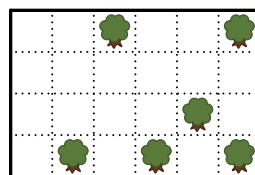
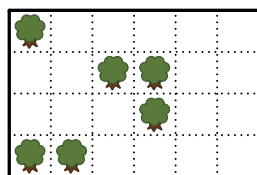
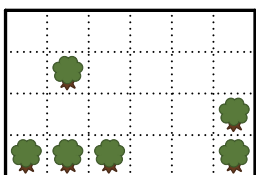
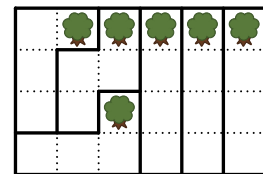
Une case non attribuée.

Parcelles (Alain Brobecker, 2012) Monsieur Marcel veut partager son champ de manière équitable entre ses 6 enfants. Pour ne pas faire de jaloux chacun aura une parcelle de 4 cases accolées (, , ,  ou ) et contenant un seul arbre. Aidez Monsieur Marcel à faire ce découpage comme dans l'exemple ci-contre. Dans le dernier champ il restera une case non attribuée. Chaque champ possède une solution unique.



Une case non attribuée.

Parcelles (Alain Brobecker, 2012) Monsieur Marcel veut partager son champ de manière équitable entre ses 6 enfants. Pour ne pas faire de jaloux chacun aura une parcelle de 4 cases accolées (, , ,  ou ) et contenant un seul arbre. Aidez Monsieur Marcel à faire ce découpage comme dans l'exemple ci-contre. Dans le dernier champ il restera une case non attribuée. Chaque champ possède une solution unique.



Une case non attribuée.

Parcelles - Solutions

Tous droits réservés 2012, Alain Brobecker, abrobecker@yahoo.com

